

Покажи, как я, пальцами  
двух рук, цифру **шесть**.

### Рубрика «ЗНАКОМИМСЯ С ЦИФРАМИ»

Посмотри, как ещё можно нарисовать и написать цифру **шесть**.



Попробуй  
карандашом  
изобразить цифру  
**шесть**.

Покажи  
на картинке  
шестое кольцо  
для пирамидки.

### ЗАДАНИЕ № 2. Что спрятано?





Покажи, как я, пальцами  
двух рук, цифру **семь**.



Попробуй  
карандашом  
изобразить  
цифру **семь**.

Покажи на пирамидке  
два верхних кольца,  
которые нужно снять.  
Сколько колец теперь  
лежит рядом  
с пирамидкой?

Задание № 4. Кто где живёт?



Покажи, как я, пальцами  
двух рук, цифру **восемь**.

### Рубрика «ЗНАКОМИМСЯ С ЦИФРАМИ»

Посмотри, как ещё можно нарисовать и написать цифру **восемь**.




Попробуй  
карандашом  
изобразить цифру  
**восемь**.



Выбери три кольца,  
которые нужно  
надеть на пирамидку,  
чтобы получилась  
пирамидка из восьми  
разноцветных колец.


## Задание № 5 Запомни фигуры и предметы





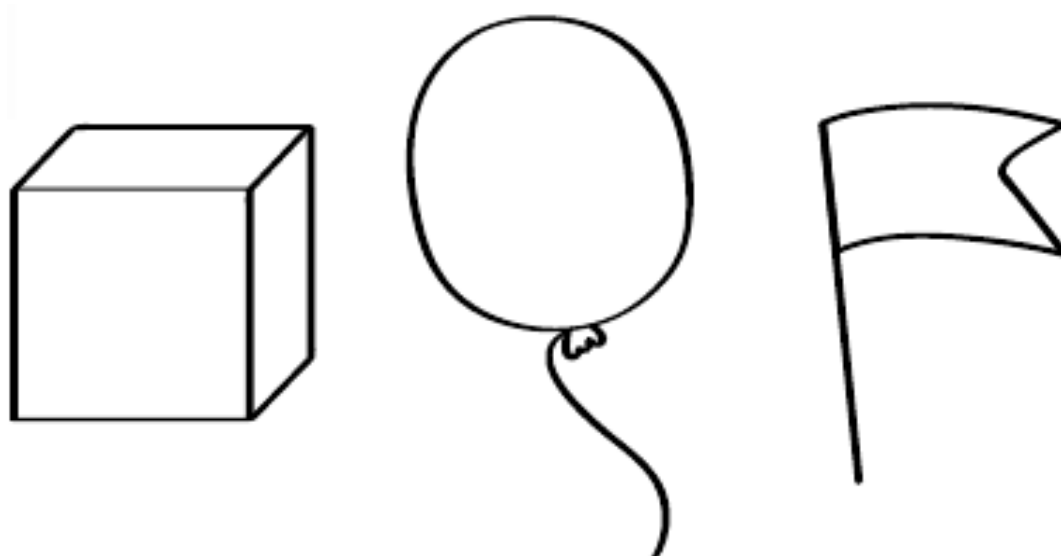



## Задание № 6. Запомни звёздочки





**Задание № 7. Раскрась по памяти**



Покажи, как я, пальцами двух рук, цифру **девять**.

### Рубрика «ЗНАКОМИМСЯ С ЦИФРАМИ»

Посмотри, как ещё можно нарисовать и написать цифру **девять**.



Попробуй карандашом изобразить цифру **девять**.



Собери пирамидку из девяти частей.

## Задание № 8. У кого что было?







Покажи, как я, пальцами  
двух рук, цифру **десять**.




10



### Рубрика «ЗНАКОМИМСЯ С ЦИФРАМИ»

Посмотри, как ещё можно нарисовать и написать цифру **десять**.



Попробуй  
карандашом  
изобразить цифру  
**десять**.



Собери  
на пирамидке  
десять колец.

**Задание № 10. Кто – где?**



**Задание № 12. Запомни и раскрась**

